

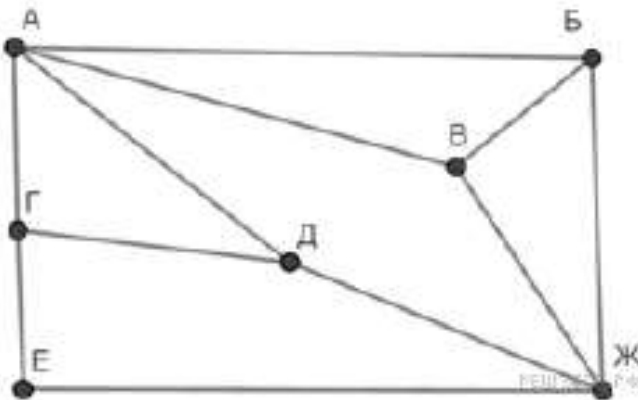
Вариант 1-15.05

1. Сколько нулей в двоичной записи десятичного числа 510?
2. Переведите в шестнадцатеричную систему счисления двоичное число 101011.
4. Логическая функция F задаётся выражением $x \wedge \neg y \wedge (\neg z \vee w)$. На рисунке приведён фрагмент таблицы истинности функции F , содержащий все наборы аргументов, при которых функция F истинна. Определите, какому столбцу таблицы истинности функции F соответствует каждая из переменных w, x, y, z .

Перем. 1	Перем. 2	Перем. 3	Перем. 4	Функция
???	???	???	???	F
1	0	0	0	1
1	0	1	0	1
1	0	1	1	1

В ответе напишите буквы w, x, y, z в том порядке, в котором идут соответствующие им столбцы (сначала — буква, соответствующая первому столбцу; затем — буква, соответствующая второму столбцу, и т. д.) Буквы в ответе пишите подряд, никаких разделителей между буквами ставить не нужно.

5. На рисунке схема дорог изображена в виде графа, в таблице содержатся сведения о длине этих дорог в километрах.



	П1	П2	П3	П4	П5	П6	П7
П1		10		13	15		
П2	10		18			12	17
П3		18			20		16
П4	13				11	7	
П5	15		20	11			14
П6		12		7			
П7		17	16		14		

Так как таблицу и схему рисовали независимо друг от друга, нумерация населённых пунктов в таблице никак не связана с буквенными обозначениями на графе. Определите длину кратчайшего пути из пункта Д в пункт Е, если передвигаться можно только по указанным дорогам. В ответе запишите целое число — длину пути в километрах.

6. Между населёнными пунктами А, В, С, D, E, F, Z построены дороги, протяжённость которых приведена в таблице. (Отсутствие числа в таблице означает, что прямой дороги между пунктами нет.)

	A	B	C	D	E	F	Z
A		7					57
B	7		5	7	27		
C		5		3			
D		7	3		2		
E		27		2		2	8
F					2		3
Z	57				8	3	

Определите длину кратчайшего пути между пунктами А и Z (при условии, что передвигаться можно только по построенным дорогам).

7. Ниже в табличной форме представлен фрагмент базы данных:

№	Страна	Столица	Площадь, тыс. км ²	Численность населения, тысяч чел.	Часть света
1.	Бельгия	Брюссель	30,5	10289	Европа
2.	Бурунди	Бужумбура	27,8	6096	Африка
3.	Гаити	Порт-о-Пренс	27,8	7528	Северная Америка
4.	Дания	Копенгаген	43,1	5384	Европа
5.	Джибути	Джибути	22,0	0,457	Африка
6.	Доминиканская Республика	Санто-Доминго	48,7	8716	Северная Америка
7.	Израиль	Тель-Авив	20,8	6116	Азия
8.	Коста-Рика	Сан-Хосе	51,1	3896	Северная Америка
9.	Лесото	Масеру	30,4	1862	Африка
10.	Македония	Скопье	25,3	2063	Европа
11.	Руанда	Кигали	26,4	7810	Африка
12.	Сальвадор	Сан-Сальвадор	21,0	6470	Северная Америка

Сколько записей в данном фрагменте удовлетворяют условию: ((Площадь, тыс.км² > 30) И (Численность населения, тысяч чел. > 5000)) И (Часть света = Европа)?

8. Ниже представлены две таблицы из базы данных. Каждая строка таблицы 2 содержит информацию о ребёнке и об одном из его родителей. Информация представлена значением поля ID в соответствующей строке таблицы 1. Определите на основании приведённых данных ID племянника Котия В. А.

Пояснение: племянником считается сын брата или сестры.

Таблица 1			Таблица 2	
ID	Фамилия_И.О.	Пол	ID_Родителя	ID_Ребенка
16	Котий И.М.	Ж	26	27
26	Котий А.В.	М	46	27
27	Котий В.А.	М	27	28
28	Котий В.В.	М	66	28
36	Брамс Т.А.	Ж	26	36
37	Брамс Б.Г.	Ж	46	36
38	Ващенко Г.Г.	М	36	37
46	Щука А.С.	Ж	38	37

47	Щука В.А.	М	16	38
48	Ващенко К.Г.	М	36	48
49	Ващенко И.К.	М	38	48
56	Рисс Н.В.	Ж	27	56
66	Мирон Г.В.	Ж	66	56

9. Для кодирования некоторой последовательности, состоящей из букв И, К, Л, М, Н, решили использовать неравномерный двоичный код, удовлетворяющий **условию Фано**. Для буквы Н использовали кодовое слово 0, для буквы К – кодовое слово 10. Какова наименьшая возможная суммарная длина всех пяти кодовых слов?

Примечание. Условие Фано означает, что никакое кодовое слово не является началом другого кодового слова. Это обеспечивает возможность однозначной расшифровки закодированных сообщений.

10. Для кодирования некоторой последовательности, состоящей из букв А, Б, В, Г и Д, используется неравномерный двоичный код, позволяющий однозначно декодировать полученную двоичную последовательность. Вот этот код:

А – 0; Б – 100; В – 1010; Г – 111; Д – 110. Требуется сократить для одной из букв длину кодового слова так, чтобы код по-прежнему можно было декодировать однозначно. Коды остальных букв меняться не должны. Каким из указанных способов это можно сделать?

- 1) для буквы В – 101
- 2) это невозможно
- 3) для буквы В – 010
- 4) для буквы Б – 10

11. Дан фрагмент электронной таблицы:

	А	В	С
1	3		=A1*9
2	=B1/A1	=C1/B1	=B2+A1



Какое число должно быть записано в ячейке В1, чтобы построенная после выполнения вычислений диаграмма по значениям диапазона ячеек А2:С2 соответствовала рисунку? Известно, что все значения диапазона А1:С2 имеют один и тот же знак.

12. Дан фрагмент электронной таблицы. Из ячейки А3 в ячейку С4 была скопирована формула. При копировании адреса ячеек в формуле автоматически изменились. Какова сумма числовых значений формул в ячейках А3 и С4?

	А	В	С	Д	Е
1	1	2	3	4	5
2	6	7	8	9	10
3	=\$C1+A\$1	12	13	14	15
4	16	17		19	20

13. Определите, что будет напечатано в результате выполнения программы (записанной ниже на разных языках программирования):

```
var n, s: integer;
begin
  n := 30;
  s := 1;
  while s < 500 do
  begin
    s := s * 2;
    n := n + 10
  end;
  write(n);
end.
```

14. Определите, что будет напечатано в результате работы следующего фрагмента программы:

Паскаль
<pre>var k, s: integer; begin s:=5; k:=0; while k < 15 do begin k:=k+2; s:=s+k; end; write(s); end.</pre>

15. Автоматическая фотокамера производит растровые изображения размером 1024 на 600 пикселей. При этом объём файла с изображением не может превышать 300 Кбайт, упаковка данных не производится. Какое максимальное количество цветов можно использовать в палитре?

16. Производится двухканальная (стерео) звукозапись с частотой дискретизации 32 кГц и 32-битным разрешением. Запись длится 3 минуты, её результаты записываются в файл, сжатие данных не производится. Определите приблизительно размер полученного файла (в Мбайт). В качестве ответа укажите ближайшее к размеру файла целое число, кратное пяти.

18. Азбука Морзе позволяет кодировать символы для сообщений по радиосвязи, задавая комбинацию точек и тире. Сколько различных символов (цифр, букв, знаков пунктуации и т. д.) можно закодировать, используя код азбуки Морзе длиной **не менее четырёх и не более пяти** сигналов (точек и тире)?

19. В терминологии сетей TCP/IP маской сети называется двоичное число, определяющее, какая часть IP-адреса узла сети относится к адресу сети, а какая — к адресу самого узла в этой сети. При этом в маске сначала (в старших разрядах) стоят единицы, а затем с некоторого места — нули. Обычно маска записывается по тем же правилам, что и IP-адрес, — в виде четырёх байтов, причём каждый байт записывается в виде десятичного числа. Адрес сети получается в результате применения поразрядной конъюнкции к заданному IP-адресу узла и маске.

Для узла с IP-адресом 111.81.88.168 адрес сети равен 111.81.88.160. Найдите наименьшее значение последнего байта маски. В ответ запишите наименьшее значение последнего байта маски в десятичном виде.

20. В терминологии сетей TCP/IP маской сети называется двоичное число, определяющее, какая часть IP-адреса узла сети относится к адресу сети, а какая — к адресу самого узла в этой сети. Обычно маска записывается по тем же правилам, что и IP-адрес. Адрес сети получается в результате применения поразрядной конъюнкции к заданному IP-адресу узла и маске. По заданным IP-адресу узла и маске определите адрес сети.

IP-адрес узла: 224.23.253.138
Маска: 255.255.240.0

При записи ответа выберите из приведённых в таблице чисел четыре элемента IP-адреса и запишите в нужном порядке соответствующие им буквы без использования точек.

A	B	C	D	E	F	G	H
255	253	240	224	138	23	8	0

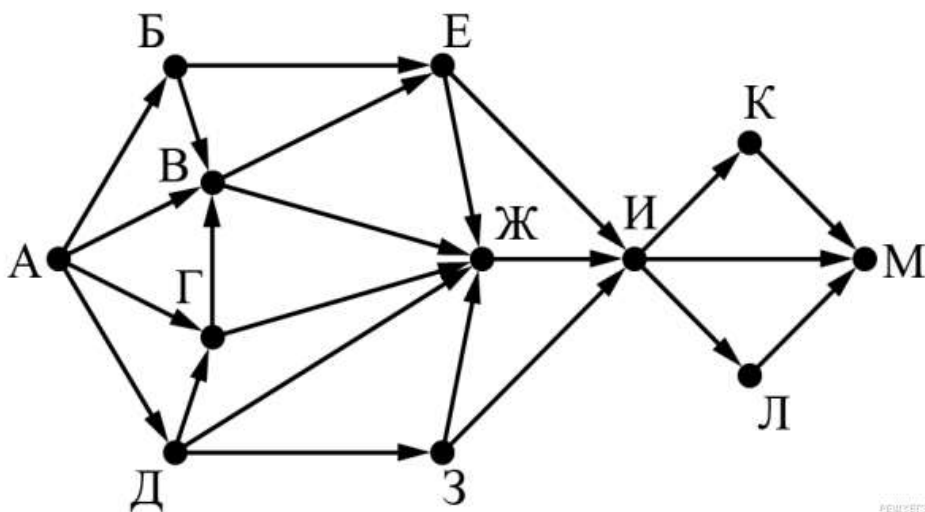
21. При регистрации в компьютерной системе каждому пользователю выдаётся пароль, состоящий из 10 символов. В качестве символов используют прописные буквы латинского алфавита, т.е. 26 различных символов. В базе данных для хранения сведений о каждом пользователе отведено одинаковое и минимально возможное целое число байт. При этом используют посимвольное кодирование паролей, все символы кодируют одинаковым и минимально возможным количеством бит. Кроме собственно пароля, для каждого пользователя в системе хранятся дополнительные сведения, для чего отведено 15 байт на одного пользователя.

Определите объём памяти (в байтах), необходимый для хранения сведений о 50 пользователях. В ответе запишите только целое число – количество байт.

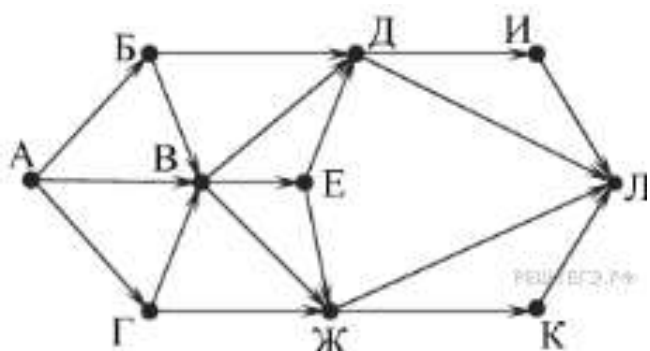
22. При регистрации в компьютерной системе каждому пользователю выдаётся пароль, состоящий из 12 символов и содержащий только символы А, Б, В, Г, Д, Е. Каждый такой пароль в компьютерной программе записывается минимально возможным и одинаковым целым количеством байт, при этом используют посимвольное кодирование и все символы кодируются одинаковым и минимально возможным количеством бит. Определите, сколько байт необходимо для хранения 20 паролей.

23. На рисунке представлена схема дорог, связывающих города А, Б, В, Г, Д, Е, Ж, З, И, К, Л, М. По каждой дороге можно двигаться только в одном направлении, указанном стрелкой.

Сколько существует различных путей из города А в город М, **проходящих через город Ж**?



24. На рисунке — схема дорог, связывающих города А, Б, В, Г, Д, Е, Ж, И, К, Л. По каждой дороге можно двигаться только в одном направлении, указанном стрелкой. Сколько существует различных путей из города А в город Л?



25. Значение арифметического выражения $9^7 + 3^{21} - 9$ записали в системе счисления с основанием 3. Сколько цифр «2» содержится в этой записи?

26. Решите уравнение:

$$101_x + 13_{10} = 101_{x+1}$$

27. В языке запросов поискового сервера для обозначения логической операции «ИЛИ» используется символ «|», а для логической операции «И» – символ «&». В таблице приведены запросы и количество найденных по ним страниц некоторого сегмента сети Интернет:

Запрос	Найдено страниц (в тысячах)
Курск & (Орёл Белгород)	370
Курск & Белгород	204
Курск & Орёл & Белгород	68

Компьютер печатает количество страниц (в тысячах), которое будет найдено по следующему запросу: **Курск & Орёл**? Считается, что все запросы выполнялись практически одновременно, так что набор страниц, содержащих все искомые слова, не изменялся за время выполнения запросов.

28. В языке запросов поискового сервера для обозначения логической операции «ИЛИ» используется символ «|», а для обозначения логической операции «И» – символ «&».

В таблице приведены запросы и количество найденных по ним страниц некоторого сегмента сети Интернет.

Запрос	Найдено страниц (в тысячах)
суффикс	117
суффикс корень	345
суффикс & корень	72
уравнение	284
уравнение & суффикс	0
уравнение & корень	190

Какое количество страниц (в тысячах) будет найдено по запросу **уравнение | корень?**

Считается, что все запросы выполнялись практически одновременно, так что набор страниц, содержащих все искомые слова, не изменялся за время выполнения запросов.